

4.Sınıf B



**ERKAN
YKS-LGS**

Kurs Merkezi

*yeni şampiyonlarını
arıyor!*

ERKAN KURS

BURSLULUK SINAVI

sonrası 2023-2024 Eğitim

Yılına kayıt yaptıran tüm

öğrenciler,

1,5 Yıllık Eğitim Hakkı

Kazanmış olacaktır.

www.erkanegitim.com.tr



ERKAN KURS

BEGÖVİÇ ŞUBE / 502 01 10

İLLER BNK ŞUBE / 232 62 62

1. Bu testte 15 soru vardır.
2. Cevaplarınızı cevap kâğıdının Türkçe Testi için ayrılan kısmına işaretleyiniz.

1. Aşağıdakilerden hangisi "çok sevinmek" anlamına gelen deyimdir?

- A) Eteğine yapışmak
B) Etekleri tutuşmak
C) Etek silkemek
D) Etekleri zil çalmak

2. "Serhat Efe yaptığı konuşmada ölçüyü aşmış, bizi ve ailesini çok üzmüştü." cümlesinde geçen altı çizili kelime aşağıdakilerden hangi anlamda kullanılmıştır?

- A) Aşırı olmama, ılımlı, uygun olma durumu
B) Değer, itibar
C) Ölçme sonucu bulunan rakam
D) Belirlenmiş boyut

3. ★ Bu filmi de en az diğerleri kadar merak ediyorum.

● Şaşkınlıktan gözleri fal taşı gibi açılmıştı.

▲ Sokağın en büyük binasında oturuyoruz.

■ Resimde küp, üçgen prizma gibi geometrik cisimler vardır.

Yukarıdaki cümlelerden hangilerinde karşılaştırma yapılmıştır?

- A) ★ ile ■
B) ■ ile ●
C) ▲ ile ★
D) ● ile ▲

4. "Sen de az yaramaz değildin." cümlesinin anlamca benzeri aşağıdakilerden hangisidir?

- A) Sen yaramazlık yapmazdın.
B) Sen de zaman zaman yaramazlık yapardın.
C) Sen çok yaramazdın.
D) Sen uslu bir çocuktun.

5.



Selim, görsellerdeki varlıkları arkadaşına gösterip bu varlıkların baş harfleri ile oluşan kelimenin zıt anlamlısını sormuştur.

Arkadaşı doğru cevap verdiği göre, aşağıdakilerden hangisini söylemiştir?

- A) Parlak
B) Saydam
C) Mat
D) Açık

6.



Ders, alan, meslek isimleri terim anlamı değildir. Bu alanlarla ilgili olan özel kavramlar terimdir.

Selma: kare, matematik, açı, atmosfer, müzik, nota, öğretmen,

Öğretmenin açıklamasına göre Selma'nın verdiği terim anlamı kelime örneklerinin tamamının doğru olması için söylediği kelimelerden aşağıdakilerden hangileri kalmalıdır?

- A) Kare, atmosfer, müzik, öğretmen
B) Kare, açı, atmosfer, nota
C) Kare, matematik, müzik, nota
D) Kare, müzik, öğretmen, nota

7.



Ceren

- >> Özel adlar büyük harfle başlar.
- >> Kişi adlarından önce ve sonra gelen saygı sözleri, unvanlar, lakaplar, meslek ve rütbe adları büyük harfle başlar.
- >> Hayvanlara verilen özel adlar büyük harfle başlar.
- >> Ay ve gün adları her durumda büyük yazılır.

Ceren büyük harflerin kullanımıyla ilgili hazırladığı sunumunda bir hata yapmıştır.

Ceren'in yaptığı hata aşağıdakilerden hangisidir?

- A) Özel adlar büyük harfle başlar.
- B) Kişi adlarından önce ve sonra gelen saygı sözleri, unvanlar, lakaplar, meslek ve rütbe adları büyük harfle başlar.
- C) Hayvanlara verilen özel adlar büyük harfle başlar.
- D) Ay ve gün adları her durumda büyük yazılır.

8.

Çay	Sal	Bal
Kaz	Atkı	Hafif
Sulh	Kır	Sağ

Büşra, tabloda verilen kelimelerden sesteş olanların kutucuklarını boyamıştır.

Büşra'nın boyadığı tablonun son hâli aşağıdakilerden hangisinde doğru verilmiştir?

- A)
- B)
- C)
- D)

9.

Babam televizyon karşısında uyuyakaldı

Yaşasın teyzemler bize gelecek

Sinemaya yarın mı gideceksin

İri mi iri bir köpek gördüm



Otomobil, sonuna soru işareti gelmesi gereken cümlelerin bulunduğu yöne doğru gitmek istiyor.

Buna göre, otomobil hangi yöne gitmelidir?

A)



B)



C)



D)



10.

Kurum, kuruluş, kurul ve iş yeri adlarına gelen ekler kesme işaretiyle ayrılmaz.

Bu açıklamaya göre aşağıdaki cümlelerin hangisinde yazım yanlışı yapılmıştır?

- A) Hep birlikte Türkiye Büyük Millet Meclisinde yapılan yemin törenini izledik.
- B) Türk Dil Kurumundan açıklama geldi.
- C) Mavi Köşe Pastanesi'nden künefe aldık.
- D) Babam Cerrahpaşa Tıp Fakültesi Hastanesinde göreve başladı.

11. Öğretmen öğrencilerinden "yardımlaşmanın önemi" konulu atasözlerine örnek vermelerini istemiştir.

EBRU: Damlaya damlaya göl olur.

POLAT: Komşu komşunun külüne muhtaçtır.

UMUT: Sakla samanı gelir zamanı.

SARE: Ayağını yorganına göre uzat.

Buna göre, hangi öğrenci doğru örnek vermiştir?

- A) Polat
- B) Ebru
- C) Umut
- D) Sare


12. "O kadar çok çilek var ki" cümlesindeki boşluğa aşağıdakilerden hangisinin getirilmesi uygun değildir?

- A) bize bile yetmedi.
- B) günlerce toptasak yine bitmez.
- C) bika bika yiyebiliriz.
- D) sepetimi tepeleme doldurur.

13. Aşağıdaki cümlelerin hangisi hayal ürünü değildir?

- A) Küçük papatya, arkadaşlarının renklerini hayranlıkla izledi.
- B) Küçük çocuklar, merdivenden tırmanarak bulutlara salıncak yaptılar.
- C) Kuş seslerini büyük bir zevkle dinledi.
- D) Serçeler, kendi aralarında sohbe dalmışlardı.

14.

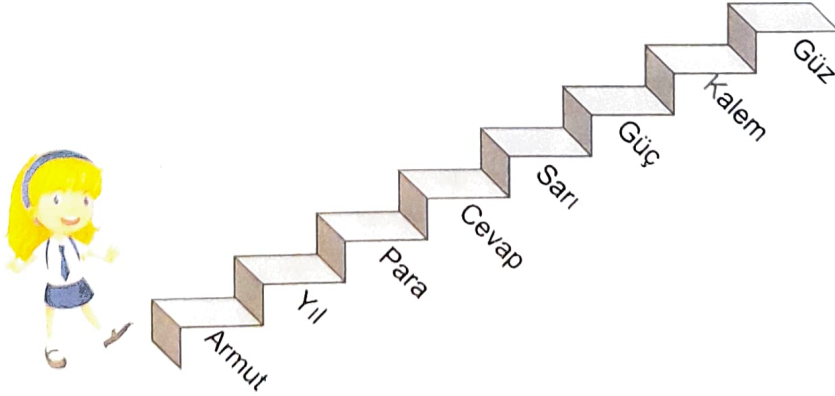


Çevre kirliliği, doğal kaynakların yanlış ve aşırı kullanılması sonucu doğanın tahrip edilmesidir. İnsanların bilinçsiz tüketimi de çevre kirliliğine sebep olur. Çevre kirliliği ile doğanın dengesi bozulur, bu da pek çok olumsuz sonucu beraberinde getirir. Çevre kirliliğinde birtakım yabancı maddeler hava, su ve toprağa karışır. Doğaya karışan bu kimyasal maddeler doğal dengeyi ve bitki örtüsünü bozar. Bu bozulma hem doğadaki canlılara hem de insanlara büyük zararlar verir. Doğanın dengesi bozulduğunda hiçbir doğal unsur görevini tam olarak yerine getiremez. Görevini yerine getiremeyen bu unsurlar sebebiyle dünya her geçen gün yaşanamaz hale gelir. Ekosistemin bozulması ile birlikte insanların yaşamı da tehlikeye girer.

Bu metnin konusu aşağıdakilerden hangisidir?

- A) Yabancı maddelerin hava, su ve toprağa karışması
- B) Çevre kirliliğinin doğa üzerindeki yıkıcı etkisi
- C) Bilinçli insanların doğayı koruması
- D) Doğanın tahrip olmasında bilinçsiz tüketicinin varlığı

15.



Pelin, üzerinde eş anlamlı kelimelerin olduğu basamaklara basarak okula girecektir.

Buna göre, Pelin basamakları kaçar kaçar çıkmalıdır?


- A) Birer
- B) İkişer
- C) Üçer
- D) Dörder

TÜRKÇE TESTİ BİTTİ.
SOSYAL BİLGİLER TESTİNE GEÇİNİZ.

1. Bu testte 10 soru vardır.

2. Cevaplarınızı cevap kâğıdının **Sosyal Bilgiler** Testi için ayrılan kısmına işaretleyiniz.

1.



Yukarıdaki şekilde 3, 5 ve 1 numaralı yerlere sırasıyla hangi yön adları gelmelidir?

- A) güneydoğu - kuzeydoğu - güneybatı
 B) kuzeydoğu - güneydoğu - güneybatı
 C) kuzeydoğu - güneydoğu - kuzeybatı
 D) güneybatı - güneydoğu - kuzeybatı

2. Aşağıdakilerden hangisi millî kültürümüze ait oyunlardan değildir?

- A) Cirit
 B) Okçuluk
 C) Topaç
 D) Sudoku

3.

- Sert zeminler üzerine sağlam binalar yapılmalıdır.
- Yamaçlar ağaçlandırılmalı ve destek duvarları oluşturulmalıdır.
- Elektrikli aletler, yanıcı ve patlayıcı maddeler dikkatli kullanılmalıdır.
- Barajlar yapılmalı ve çevre ağaçlandırılmalıdır.

Yukarıdaki önlemler, sırasıyla hangi doğal afetlere karşı alınması gereken önlemlerdir?

- A) deprem – heyelan – yangın – sel
 B) deprem – sel – yangın – heyelan
 C) yangın – heyelan – deprem – sel
 D) heyelan – deprem – yangın – sel

4.

- I. Okula başlamak
 II. Okumaya başlamak
 III. İşe girmek
 IV. Ortaokula başlamak
 V. İlkokuldan mezun olmak
 VI. İlk adımları atmak

Yukarıda verilen olayların kronolojik sıralaması aşağıdakilerden hangisinde doğru olarak verilmiştir?

- A) I – II – III – IV – V – VI
 B) VI – II – I – IV – V – III
 C) VI – I – II – V – IV – III
 D) VI – I – III – V – IV – II

5. Aşağıda verilen görsellerden hangisi deprem çantasında bulunması gereken malzemelerden biri değildir?




6. Millî mücadeleye katılmış insanlar için aşağıdakilerden hangisi doğru bir ifade değildir?

- A) Çok acılar çekip yokluklar görmüşlerdir.
 B) Tarihi, bizzat yaşamış ve yapmışlardır.
 C) Her zaman saygı ve hürmet görmelidirler.
 D) Millî mücadeleye katılanlar sadece erkeklerdir.

7.



1. Peribacaları
Beşerî unsur



2. Ayasofya Camii
Beşerî unsur



3. Pamukkale
Doğal unsur



4. Topkapı Sarayı
Doğal unsur

Yukarıdaki eşleştirmelerden hangileri doğru olarak verilmiştir?

- A) 1 ve 2 B) 1 ve 4 C) 2 ve 3 D) 2 ve 4

8.

- I. İklim, bir yerin uzun yıllar boyunca sahip olduğu hava durumu özelliğidir.
II. İklim, bitki örtüsünü ve insanların yaşam biçimlerini etkiler.
III. Hava olaylarını gözlemleyen insanlara meteorolog denilmektedir.
IV. Hava olaylarını inceleyen bilim dalına termometre denir.

Yukarıdaki bilgilere göre, aşağıdaki tablolardan hangisi doğru yapılmıştır?

A)

	D	Y
I	✓	
II		✗
III	✓	
IV		✗

B)

	D	Y
I	✓	
II	✓	
III	✓	
IV		✗

C)

	D	Y
I		✗
II		✗
III	✓	
IV		✗

D)

	D	Y
I	✓	
II	✓	
III	✓	
IV	✓	

9.

1.



2.



3.



4.



Yukarıdaki yön bulma seçeneklerinin hangileri gece yön bulmada kullanılabilir?

- A) 1, 2 ve 4 B) 1 ve 3
C) 3 ve 4 D) 1 ve 2

10.



Mondros Ateşkes
Antlaşması



Lozan Barış
Antlaşması



Ankara
Antlaşması



Mudanya Ateşkes
Antlaşması

Yukarıda hangi renkle verilen antlaşma ile yeni Türk devletini tüm dünya tanıdı?

- A) Sarı balon
B) Kırmızı balon
C) Mavi balon
D) Yeşil balon

SOSYAL BİLGİLER TESTİ BİTTİ.
DİN KÜLTÜRÜ VE AHLAK BİLGİSİ TESTİNE GEÇİNİZ.

1. Bu testte 5 soru vardır.

2. Cevaplarınızı cevap kâğıdının **Din Kültürü ve Ahlak Bilgisi** Testi için ayrılan kısmına işaretleyiniz.

1. "Esirgeyen ve bağışlayan Allah'ın adıyla (baş-larım)" ifadesi aşağıdakilerden hangisinin Türkçe karşılığıdır?

- A) Kelime-i Şehadet
- B) Kelime-i Tevhid
- C) Bismillahirrahmanirrahim
- D) Amentü cümlesi

2. ⇨ Sözlükte dua, yakarış, niyaz anlamına gelir.

- ⇨ Miraç gecesi farz kılınmıştır.
- ⇨ Özel hareketler ve belirli duaların okunuşuyla her gün yerine getirilir.
- ⇨ Ergenlik çağına ulaşmış her Müslümana farz kılınmıştır.

Verilen özelliklerin tamamı aşağıdaki ibadetlerden hangisiyle ilgilidir?

- A) Namaz
- B) Zekât
- C) Hac
- D) Oruç

3. Kur'an-ı Kerim'in her bir cümlesine ne ad verilir?

- A) Sure
- B) Ayet
- C) Mushaf
- D) Cüz

4. I. Namaz kılmak
II. Allah'a inanmak
III. Ahirete iman
IV. Kelime-i şehadet getirmek
V. Peygamberlere inanmak

Yukarıda verilenlerden hangileri İslam'ın inanç esaslarındandır?

- A) I, II ve V
- B) II, III ve IV
- C) II, III ve V
- D) III ve IV

5. I. Zekât vermek
II. Sadaka vermek
III. Dua etmek
IV. Kurban kesmek
V. Namaz kılmak


Yukarıda verilen ibadetlerden hangileri İslam'ın şartlarındandır?

- A) I ve II
- B) II ve III
- C) II ve V
- D) I ve V

DİN KÜLTÜRÜ VE AHLAK BİLGİSİ
TESTİ BİTTİ.
İNGİLİZCE TESTİNE GEÇİNİZ.

1. Bu testte 5 soru vardır.
2. Cevaplarınızı cevap kâğıdının İngilizce Testi için ayrılan kısmına işaretleyiniz.

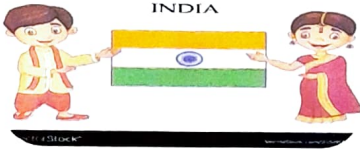
1.



Yukarıdaki görsele göre aşağıdakilerden hangisi söylenebilir?

- A) They are from Japan. They are Japanese.
- B) They are from Russia. They are Russian.
- C) They are from Britain. They are British.
- D) They are from Germany. They are German.

2.



Jane:

Jack: She is Indian.

Yukarıdaki boşluğa aşağıdakilerden hangisi gelmelidir?

- A) Where is she from?
- B) Where is India?
- C) Where do you live?
- D) What nationality is she?

3.



Yukarıdaki görseli anlatan ifade aşağıdakilerden hangisidir?

- A) Stay in the line.
- B) Turn off the lights.
- C) Clean the board please.
- D) May I clean the board?

4.



Ayşe: What is this?

Oğuz:

Ayşe:

Oğuz: Yes, I can.

Yukarıda boş bırakılan yerlere aşağıdaki hangi ifadeler getirilmelidir?

- A) This is my bike. / Can you ride it?
- B) This is my horse. / Can you ride it?
- C) This is my guitar. / Can you play it?
- D) This is my car. / Can you drive it?

5.



I'm a hero. I have got super powers. I can run fast and fly. I help people.



What can superman do?

- A) He is a hero.
- B) He is tall.
- C) He can fly and run.
- D) He is a superman.

İNGİLİZCE TESTİ BİTTİ.
MATEMATİK TESTİNE GEÇİNİZ.

1. Bu testte 15 soru vardır.
2. Cevaplarınızı cevap kâğıdının **Matematik** Testi için ayrılan kısmına işaretleyiniz.

1.



Yukarıdaki şekil örüntüsüne göre, örüntünün 6. adımında bulunması gereken şekillerin sayıları aşağıdakilerden hangisinde doğru verilmiştir?



- | | | |
|----|----|----|
| A) | 8 | 14 |
| B) | 9 | 9 |
| C) | 6 | 12 |
| D) | 12 | 6 |

2. Ereğli Balık Halinde satılan 10 ton balığın bir kısmı Ankara'ya, geriye kalanı da İstanbul'a gönderilmiştir. İstanbul'a gönderilen balık kaç kilogramdır?

Ayşegül, bu soruyu inceledikten sonra sorunun çözülmesinin mümkün olmadığını fark ediyor.

Ayşegül bu soruyu niçin çözülemez olduğunu kabul etmiştir?

- A) Soruyu çözmekte zorlanmıştır.
B) Ankara'ya gönderilen balığın ne kadar olduğu verilmemiştir.
C) Sonuç kg cinsinden istenmiştir.
D) İstanbul'a gönderilen balığın ne kadar olduğu verilmemiştir.

3. Bir bölme işleminde; bölünen 735, bölen 4 ise kalan ile bölümün toplamı olan sayı aşağıdakilerden hangisidir?

- | | |
|--------|--------|
| A) 186 | B) 187 |
| C) 738 | D) 921 |

4. $6006 \div 6$

Yukarıdaki bölme işleminde bölüm aşağıdakilerden hangisinde doğru verilmiştir?

- | | |
|---------|---------|
| A) 101 | B) 111 |
| C) 1101 | D) 1001 |

5. Üç basamaklı bir doğal sayının;
- birler basamağındaki rakam yerine 3 yazılırsa sayı 3 artıyor,
 - onlar basamağındaki rakam yerine 4 yazılırsa sayı 20 azalıyor,
 - yüzler basamağındaki rakam yerine 7 yazılırsa sayı 400 artıyor.

Yukarıda verilen bilgilere göre, bu değişiklikler yapılmadan önceki sayı aşağıdakilerden hangisidir?

- A) 372 B) 360
C) 740 D) 743

6. “Sınıfımızdaki bütün arkadaşların bir ayda okudukları kitapların sayfa sayılarının toplamı 28714’tür.

I. hafta 8310 sayfa,

II. hafta 6442 sayfa,

III. hafta 7145 sayfa okuduğumuza göre”

Bu problemin sorusu aşağıdakilerden hangisi olamaz? (Bir ay dört haftadır.)

- A) Sınıfımızdaki Hakan, bir ayda toplam kaç sayfa kitap okumuştur?
B) Sınıf arkadaşlarımız, IV. hafta toplam kaç sayfa kitap okumuştur?
C) En çok kitap okuduğumuz hafta hangisidir?
D) IV. hafta okunan kitap sayfası ile I. haftanın farkı kaçtır?

7. Bir çıkarma işleminde eksilen 6 azaltılır, çıkan 8 artırılırsa, fark nasıl değişir?

- A) 2 azalır. B) 2 artar.
C) 14 azalır. D) 14 artar.

- 8.

	Sayının en yakın yüzlüğü	Sayının en yakın onluğu
6485		

Tabloda verilen bilgilere göre

– işlemin sonucu aşağıdakilerden hangisidir?

- A) 90 B) 20
C) 10 D) 110

9. Efe, Selim, Ertuğrul ve Eymen aralarında koşu yarışı yapmıştır. Yarışmanın sonucunda Efe 1392 metre koşmuştur. Selim Eymen'den 100 metre daha fazla koşmuştur. Ertuğrul da Eymen'den 15 metre daha fazla koşarak 1517 metreyle yarışmayı tamamlamıştır.

Yarışmacıların koştukları mesafeyi büyüklüğüne göre sıralarsak, aşağıdaki sıralamalardan hangisi doğrudur?

- A) Efe-Selim-Eymen-Ertuğrul
B) Ertuğrul-Eymen-Selim-Efe
C) Efe-Eymen-Ertuğrul-Selim
D) Selim-Ertuğrul-Eymen-Efe

10. Bir çıkarma işleminde eksilenle çıkanın toplamı 936'dır.

Fark 488 ise eksilen sayı aşağıdakilerden hangisidir?

- A) 698
B) 684
C) 724
D) 712

11. $84 \div 4 = 21$

$21 \times 100 = 2100$

Yukarıda kısa yoldan yapılışı verilen çarpma işlemi aşağıdakilerden hangisidir?

- A) 84×40
B) 84×50
C) 84×5
D) 84×25

12. $1 - 3 - 7 - 15 - 31 - ?$

Örüntüsünde "?" yerine aşağıdaki sayılardan hangisi gelmelidir?

- A) 6
B) 64
C) 63
D) 65

13. Bir çiftçi yetiştirdiği zeytinleri 20 kişiye topluyor. İşçilerin her biri 20 kasa zeytin topluyor.

Her kasada 15 kilogram zeytin olduğuna göre, toplam kaç kilogram zeytin toplanmıştır?

- A) 400
B) 6000
C) 4000
D) 3000

14. Bir caddenin iki tarafına; başında ve sonunda birer tane olmak üzere eşit aralıklarla toplam 22 tane ağaç dikilmiştir.

Bu sokak 660 metre olduğuna göre, iki ağaç arasındaki uzaklık kaç metredir?

- A) 66
B) 30
C) 60
D) 6

15. 34×12 işleminin sonucu, 1. çarpan en yakın onluğa yuvarlanarak tahmin ediliyor.

Buna göre, işlemin gerçek sonucu tahminden kaç fazladır?

- A) 38
B) 48
C) 28
D) 40

MATEMATİK TESTİ BİTTİ.
DİĞER BİLİMLERİ TESTİNE GEÇİNİZ.

1. Bu testte 10 soru vardır.
2. Cevaplarınızı cevap kâğıdının **Fen Bilimleri** Testi için ayrılan kısmına işaretleyiniz.

1. Erdal Usta'nın yanında çırak olarak terziliğe başlayan Berke, kısa sürede çok şey öğrenir. Ustası bir gün, Berke'yi dükkânda yalnız bırakıp dışarı çıkar. Berke, etrafı şöyle bir karıştırırken düğmelerle toplu iğnelerin bulunduğu kutuları yere düşürür. Berke'nin, ustası gelmeden karışan toplu iğnelerle düğmeleri birbirinden ayırması gerekmektedir.

Buna göre Berke, toplu iğneleri düğmelerden aşağıdaki yöntemlerden hangisini kullanarak en kolay şekilde ayırır?

- A) Eliyle tek tek ayırarak
- B) Miknatis kullanarak
- C) Karışımı suya atarak
- D) Elekten geçirerek

2. **Aşağıdakilerden hangisi yer kürenin iç katmanlarının sıcak olması ile açıklanamaz?**

- A) Kaplıca sularının sıcak olması
- B) Yeryüzünden derinlere inildikçe sıcaklıkta artış olması
- C) Yeryüzüne çıkan lavların sıcak olması
- D) Çöllerdeki sıcaklığın fazla olması

3. **Dünya'mızın hareketi ile ilgili aşağıdakilerden hangisi doğrudur?**

	Kendi ekseninde dönüş süresi	Güneş etrafında dolanım süresi
A)	1 Gün	29 Gün
B)	24 Saat	1 Gün
C)	24 Saat	1 Yıl
D)	1 Yıl	29 Saat

4.

1. Çatıdan düşen taşın hızı düzgün olarak artar.
2. Frenine basılan otomobilin hızı yavaşlar.
3. Havaya atılan bir topun hızı önce düzgün olarak artar, sonra düzgün olarak azalır.

Yukarıda verilen bilgilerden hangileri doğrudur?

- A) Yalnız 1
- B) Yalnız 2
- C) 1 ve 2
- D) 1, 2 ve 3

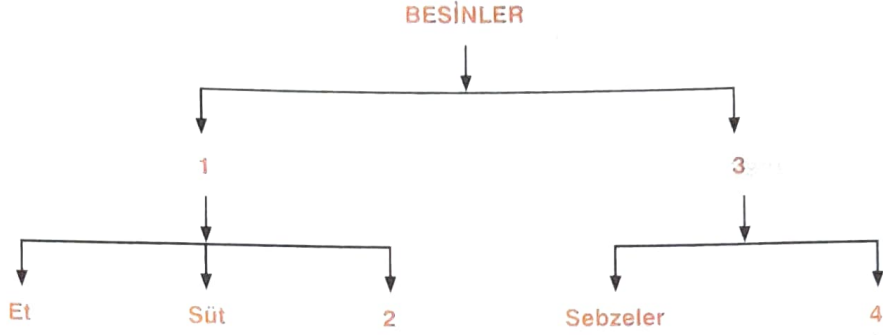
5.

1. Miknatislerin zıt kutupları birbirini iter.
2. Miknatislerin aynı kutupları yan yana geldiğinde birbirlerini çeker.

Yukarıda verilen bilgiler ile ilgili aşağıdakilerden hangisi doğrudur?

- A) Yalnız 1 doğru
- B) Yalnız 2 doğru
- C) 1 ve 2 doğru
- D) 1 ve 2 yanlış

6.



Yukarıdaki kavram haritasında rakamların yerine aşağıdaki ifadelerden hangileri gelmelidir?

	1	2	3	4
A)	Yumurta	Bitkisel kaynaklı	Hayvansal kaynaklı	Meyveler
B)	Yumurta	Hayvansal kaynaklı	Meyveler	Bitkisel kaynaklı
C)	Hayvansal kaynaklı	Yumurta	Bitkisel kaynaklı	Meyveler
D)	Bitkisel kaynaklı	Hayvansal kaynaklı	Yumurta	Bitkisel kaynaklı

7.

1. Parçalanması en kolay besin maddesidir.
2. Vücudun direncini artırır.
3. Vücuda en fazla enerji veren maddelerdir.
4. Vücudumuzun yaklaşık %70'ini oluşturur.

Verilenlerden hangisi "karbonhidratlar, neden vücudun enerji ihtiyacında ilk sırada kullanılır?" sorusunun cevabıdır?

- A) 1
B) 2
C) 3
D) 4

8.

- I. Sigara içmediği halde sigara içilen ortamda bulunan ve bu durumdan dolayı etkilenen kişilere pasif içici denir.
- II. Sigaranın içinde dört bin çeşit zararlı madde bulunmaktadır.
- III. Alkol kullanımıyla birlikte denge sorunu ortaya çıkar; konuşmada, yürümede zorluk oluşur.
- IV. Karaciğer, mide, bağırsaklar, kalp, beyin ve sinirler alkolden çok fazla etkilenir.

Yukarıda verilen bilgilerden kaç tanesi doğrudur?

- A) 1
B) 4
C) 3
D) 2

9. I. Yağlar, karbonhidratlardan daha fazla enerji içerir.
II. Proteinler, büyümemizi sağlayan en önemli besin maddesidir.
III. Vitaminler, vücudumuzda enerji verici olarak görev yapar.
IV. Karbonhidratlar, vücudumuzun enerji kaynağıdır.

Yukarıda verilen bilgilerden hangisi ya da hangileri yanlıştır?

- A) III B) I
C) II D) II ve IV

10.

	
Ayna	Taş
Porselen	Odun
Cam	Çelik

Yukarıdaki sınıflandırmada sembollerle gösterilen yere gelmesi gereken özellikler aşağıdakilerden hangisinde doğru verilmiştir?

		
A)	Opak	Saydam
B)	Kırılğan	Opak
C)	Kırılğan	Esnek
D)	Esnek	Berk