

3.Sınıf A



**ERKAN
YKS-LGS**

Kurs Merkezi

*yeni şampiyonlarını
arıyor!*

ERKAN KURS

BURSLULUK SINAVI

sonrası 2023-2024 Eğitim
Yılına kayıt yaptıran tüm
öğrenciler,

1,5 Yıllık Eğitim Hakkı

Kazanmış olacaktır.

www.erkanegitim.com.tr



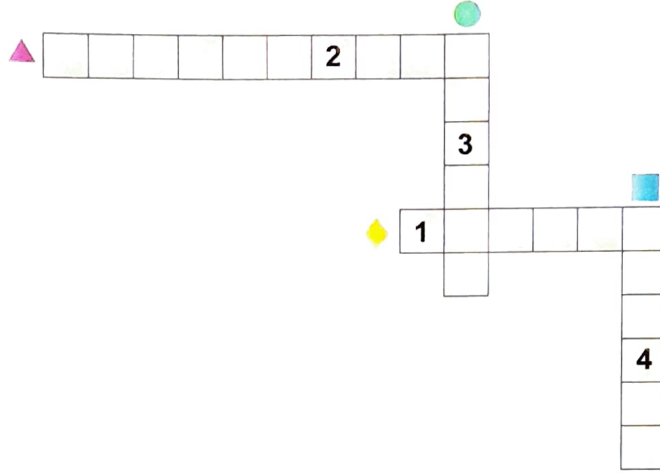
ERKAN KURS

BEGOVİÇ ŞUBE / 502 01 10

İLLER BNK ŞUBE / 232 62 62

- Bu testte Türkçe alanına ait 12 soru vardır.
- Bu testin cevaplarını optik formdaki ilgili alana kodlayınız.

- ▲ İhtiyaç
 - Ünlü
 - ◆ Güç
 - Doğa



Şifre:

1	2	3	4

Yukarıdaki sözcüklerin eş anlamlarını bulmacada uygun yerlere yazıp şifreyi bulunuz.

Bulmacadan bulunan şifrenin eş anlamlısı aşağıdakilerden hangisidir?

- A) İnsan
 - B) Şehir
 - C) Şahıs

Aysun bu sınavdan da yüksek not almıştı.

Aşağıdakilerden hangisi bu cümleden kesin olarak çıkartılabilir?

 - A) Aysun başka sınava da girmiştir.
 - B) Aysun girdiği tüm sınavlardan yüksek not alır.
 - C) Aysun sadece bu sınavdan yüksek not almıştır.
- "Karıştırmak" sözcüğü aşağıdaki cümlelerden hangisinde ayraç içindeki anlamıyla kullanılmamıştır?**

 - A) Sınıfımızdaki ikizleri hep karıştırıyorum. (Ayırt edememek)
 - B) Adam etrafıyla ilgilenmiyor, önündeki gazeteleri karıştırıyordu. (Üstünkörü okumak)
 - C) Muhallebiyi sürekli karıştırmalısın. (İçinde ne olduğunu anlamak amacıyla elle yoklamak)
- Sabahın erken saatleri...

Dallarına konan kuşlarla ağaçlar her zamankinden daha güzel. Köy henüz sessiz, sadece kuş sesleri var. Balkonda uyuyan abimin üzerinde güneşin parıltısı...

Bu parçada aşağıdaki hikâye unsurlarından hangisi yoktur?

 - A) Olay
 - B) Zaman
 - C) Yer
- Bu kaçınıcı bayram vatandan uzak,
Saya saya usandım ben bıktım ben.
Umutlar karlı dağ hayaller kızak,
Kaya kaya usandım ben bıktım ben.

Bu şiirin ana duygusu aşağıdakilerden hangisidir?

 - A) Vatan sevgisi
 - B) Doğa sevgisi
 - C) Vatan özlemi

6.

1. Masmavi bir örtüdür deniz.
Doğa ananın kucağında
Bizi besler her zaman
Eşsiz manzarasında.

2. Ak saçlı başını alıp eline
Kara hülyalara dal anneciğim
O titrek kalbini bahtın yeline,
Bir ince tüy gibi sal anneciğim!

3. Hava kızmış mı ne bugün?
Kaşlarını çatmış bulutlar.
Şimşekler nara atıyor.
Rüzgâr şiddetle esiyor.

Arif Öğretmen eş sesli (sesteş) sözcüklerin bulunduğu bir şiir okumuştur.

Buna göre Arif Öğretmen yukarıdaki şiirlerden hangisini okumuş olamaz?

A) 1

B) 2

C) 3

7.



1




2



3



4



5



6

Yukarıdaki görsellerin oluş sırasına göre dizilişi aşağıdakilerden hangisidir?

A) 2 - 4 - 5 - 3 - 6 - 1

B) 4 - 2 - 3 - 6 - 5 - 1

C) 4 - 2 - 3 - 5 - 6 - 1


8.

Minik bir fare uyuyan aslanın üzerinde dolaşmış. Aslan uyanmış, sinirle fareyi yakalamış. Tam öldüreceği sırada fare yalvarmış: "Ne olur bırak beni! Gün olur iyiliğim dokunur sana." Aslan farenin bu sözlerine gülerek acıdığı fareyi bırakmış. Aradan zaman geçmiş; aslan avcılarının kurduğu tuzağa düşmüş. Aslan ne yapmışsa da tuzaktan kurtulamamış. Oradan geçmekte olan minik fare aslanın yardımına koşmuş. Hemen dişleri ile tuzağın iplerini kemirerek kesmiş. Aslan tuzaktan kurtulmuş.

Bu parçayla aşağıdakilerden hangisi anlatılmak istenmiştir?

- A) Fareler ve aslanlar düşmandır.
B) İyilik yapan iyilik bulur.
C) Tuzak kuranlar tuzağa düşer.

9.

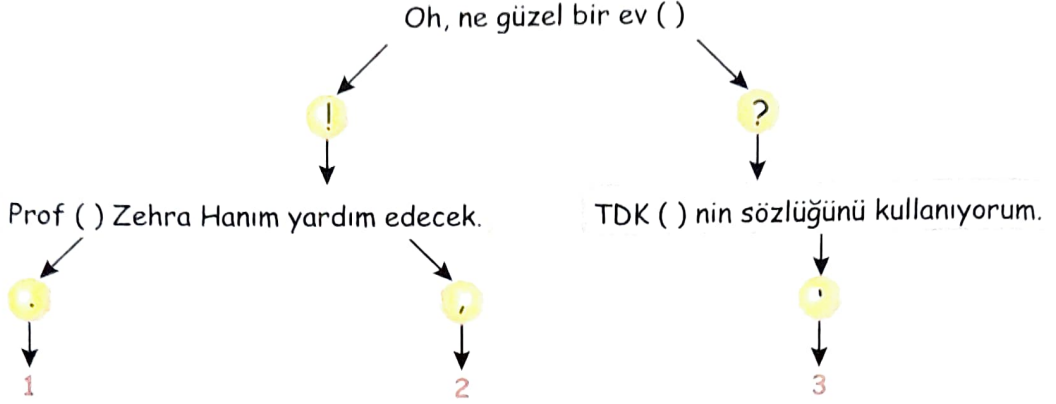


Ceren araştırma yaptığı konuyla ilgili bulduğu bilgileri yazmış ve bu yazısına yukarıdaki görseli eklemiştir.

Buna göre Ceren hangi konuda araştırma yapmıştır?

- A) Enerji tasarrufu
B) Çevre kirliliği
C) Hava kirliliği

10.



Yukarıdaki cümlelerde bulunan ayraçların yerine yazılması gereken noktalama işaretleri takip edildiğinde hangi sayıya ulaşılır?

A) 1

B) 2

C) 3

11.



Zeynep

Sinemaya sincap ailesi filmi geliyor. Birlikte gidelim mi?



Hafsa

22 Mayıs günü sınavım var. O gün olursa gelemem.



Yusuf

Ben de Pazar günü gelemem.

Yukarıdaki öğrencilerin yazışmaların hangisinde yazım yanlışı yoktur?

A) Zeynep

B) Hafsa

C) Yusuf

12. **Sarkaçlı Saatler:** Bu saatlerde, saatin alt kısmında ucunda ağırlık bulunan ince uzun bir çubuk vardır. Sarkaç denilen bu çubuk ağırlığın etkisiyle sallanır.

Köstekli Saatler: Bir zincir vasıtasıyla elbisenin herhangi bir yerine takılan saat türüdür.

Güneş Saati: Daire şeklindeki bir düzlemin ortasında dik biçimde bir çubuk bulunur. Bu çubuğun etrafında eşit aralıklarla çizilmiş çizgiler vardır. Bu aletle zaman aletin ortasındaki çubuğun gölgesine göre belirlenir.

Aşağıdakilerden hangisi yukarıda belirtilen saatlerden biri değildir?

A)



B)



C)



TÜRKÇE TESTİ BİTTİ.
DİĞER TESTE GEÇİNİZ.

- Bu testte Hayat Bilgisi alanına alt 10 soru vardır.
- Bu testin cevaplarını optik formdaki ilgili alana kodlayınız.

1. ① Disiplin

② Sorumluluk

③ Özgüven

Verilenlerden hangileri okulun bireysel gelişiminize katkılarındandır?

A) 1, 2 ve 3

B) 1 ve 2

C) 2 ve 3

2. Öğretmenine sıra arkadaşıyla ilgili sorununu anlatmak isteyen Beril aşağıdaki davranışlardan hangisini sergilemelidir?

A) Söz alarak konuşmalı

B) Arkadaşının sözünü kesmeli

C) Öğretmeninin sözünü kesmeli

3. Bir yerin kuş bakışı görünüşünün ölçeksiz olarak, kabaca kağıt üzerine küçültülerek çizilmesine denir.

cümlesindeki noktalı yere aşağıdakilerden hangisi getirilmelidir?

A) Harita

B) Kroki

C) Plan

4. Aşağıdakilerden hangisi yardımlaşmaya örnektir?

A) Boş zamanlarımızda kitap okumak

B) Yeşil alanları korumak

C) Kimsesiz çocukların yiyecek ihtiyacını karşılamak

5.

Elinde bulunan olanakları ve gücü başka bir kimsenin iyiliği, onun gereksinimi için kullanma.

Verilen davranış aşağıdakilerden hangisiyle ilişkilendirilebilir?

A) Hoşgörü

B) Yardım

C) Saygı

6. "Bir elin nesi var iki elin sesi var" atasözü aşağıdakilerden hangisinin önemini açıklar?

A) Misafirperverlik

B) Çalışkanlık

C) Yardımlaşma

7. Cumhuriyet Bayramı'nın kutlandığı tarih aşağıdakilerden hangisidir?

A) 23 Nisan

B) 29 Ekim

C) 19 Mayıs

8.

- Sağlık elemanıdır.
- Hastaların bakımıyla ilgilenirler.
- Verilen reçeteyi ve uygulanması gereken tedaviyi uygularlar.

Özellikleri verilen meslek aşağıdakilerden hangisidir?

A)



B)



C)



9.



Selçuk harçlıklarını biriktirir. Parasının bir kısmıyla ihtiyaçlarını karşılar. Geriye kalan parasını da kumbarasına atar.

Selçuk için aşağıdakilerden hangisi söylenemez?

- A) Selçuk, harçlığını hemen bitirir.
- B) Selçuk, tasarruf yapan bir çocuktur.
- C) Selçuk, bilinçli bir tüketicidir.

10. Aşağıdakilerden hangisi iletişimde kullanılan teknolojik bir ürün değildir?

A)



B)



C)



HAYAT BİLGİSİ TESTİ BİTTİ,
DİĞER TESTE GEÇİNİZ.

1. Bu testte İngilizce alanına alt 6 soru vardır.
2. Bu testin cevaplarını optik formdaki ilgili alana kodlayınız.

1.

She is my mother and he is my brother.



Ahmet'in cümlesine göre aşağıdakilerden hangisi doğrudur?

- A) My brother is young and small.
 - B) My mother is tall and fat.
 - C) My brother is fast and strong.
2. **Esra:** Hello Sümeyye. How are you?
Sümeyye: Hi Esra. I'm great, and you?
Esra: I am fine thank you. Good bye.
Sümeyye:
- Yukarıdaki diyaloga göre Sümeyye'nin cevabı hangisi olamaz?
- A) See you soon.
 - B) Bye! Take care.
 - C) Good morning

3.

..... is my brother.



Verilen resme göre yukarıdaki boşluğa hangi ifade getirilemez?

- A) He
- B) This
- C) She

4.

$$19 - 8 = ?$$

Yukarıda verilen işlemin sonucu aşağıdakilerden hangisidir?

- A) eleven
- B) twelve
- C) thirteen

5. Aşağıdaki tabloya göre hangisi yanlıştır?

			
Mary	✓	✗	✓
Jacob	✗	✓	✗
Kate	✗	✓	✓

- A) Jacob can dance but he can't cook.
- B) Kate can dance but she can't swim.
- C) Mary can cook but she can't dance.

6.



Yukarıdaki resme göre hangi ifade doğrudur?

- A) I have got a teddy bear.
- B) I haven't got a ball.
- C) I have got a doll.

İNGİLİZCE TESTİ BİTTİ.
DİĞER TESTE GEÇİNİZ.

1. Bu testte Matematik alanına ait 12 soru vardır.
2. Bu testin cevaplarını optik formdaki ilgili alana kodlayınız.

1. $271 - 143 = A$

$28 \times 10 = B$

$374 + 257 = C$

Yukarıdaki işlemlerin sonuçları büyükten küçüğe doğru sıralanırsa sıralama nasıl olur?

- A) CBA B) ABC C) ACB

2. 0, 1, 3, 4, 5, 6

Yukarıdaki rakamlarla yazılabilecek 3 basamaklı, rakamları farklı en büyük sayı ile en küçük sayının farkı kaçtır?

- A) 102 B) 551 C) 361

3. Hakan 8 yaşında, kardeşi 5 yaşında, annesi 37, babası 42 yaşındadır.

Hakan'ın aile bireylerinin yaşları toplamı kaç yıl sonra 3 basamaklı en küçük sayıya eşit olur?

- A) 4 B) 3 C) 2

4. Elif'in kumbarasındaki paranın 37 TL eksiği 45 TL'dir.

Buna göre Elif'in kumbarasındaki paranın 3 katından 4 fazlası kaçtır?

- A) 150 B) 250 C) 350

5. Semra ile Firuze'nin kalemleri toplamı 46'dır. Semra Firuze'ye 5 kalem verdiğinde ikisinin kalem sayıları eşit olmaktadır.

Buna göre ilk başta Semra'nın kalem sayısı Firuze'ninkinden kaç fazladır?

- A) 10 B) 12 C) 15

6. 5 yıl arayla doğmuş 3 kardeşin yaşları toplamı 54'tür.

En küçük kardeşin yaşı kaçtır?

- A) 13 B) 15 C) 18

7. Aşağıdaki işlemlerin hangisinin sonucu yanlıştır?

A) $8 \times 1 = 8$

B) $6 \times 0 = 6$

C) $1 \times 1 = 1$

8.

$$\begin{array}{r} KLM \\ KML \\ \hline 193A \end{array}$$

KLM ve KML üç basamaklı sayıları toplamı 193A dört basamaklı sayısıdır.

Bu işleme göre A kaçtır?

- A) 2 B) 3 C) 4

9. Bir çiçekçi elindeki 111 tane gülü üçerli buket yaparak satıyor.

Her bukete 25 TL'den sattığına göre kaç TL para kazanmıştır?

- A) 615 B) 745 C) 925

10.

$$\begin{array}{r} 6A \\ \times 87 \\ \hline 462 \\ BC8 \\ \hline 5742 \end{array}$$

Yukarıdaki çarpma işleminin A, B ve C harflerine karşılık gelen rakamları bulalım.

Buna göre $(B \times C) + A$ işleminin sonucu kaçtır?

- A) 15 B) 16 C) 17

11.



Yukarıdaki grafikte Ayşegül'ün Ekim ayında okuduğu kitapların türlerini gösteren şekil grafiği verilmiştir.

□ sembolü 5 kitabı göstermektedir.

Buna göre Ayşegül'ün en çok okuduğu kitap türü ve sayısı hangi şıkta doğru olarak verilmiştir?

- A) Hikaye = 4 B) Roman = 15
C) Hikaye = 20

12.

Çetele Tablosu

AYLAR	Okuduğu Kitap Sayısı
KASIM	### ## # ## #
ARALIK	### ## #
OCAK	### ## # ## #
ŞUBAT	### ## #
MART	### ## # ## #

Yukarıdaki çetele tablosunda Aysun'un 5 ay boyunca okuduğu kitap sayısı verilmiştir.

Bu çetele tablosuna göre Aysun kış aylarında toplam kaç kitap okumuştur?

- A) 53 B) 55 C) 63

**MATEMATİK TESTİ BİTTİ.
DİĞER TESTE GEÇİNİZ.**

1. Bu testte Fen Bilimleri alanına alt 10 soru vardır.
2. Bu testin cevaplarını optik formdaki ilgili alana kodlayınız.

1. Çevremizden tat, sıcaklık, koku, ses, ışık gibi uyarılar alırız. Bu uyarıları algılamamızı ve anlamamızı sağlayan organlara duyu organları denir.



Aşağıdaki şemada duyu organları ile ilgili verilen bilgilerin doğruluğunu kontrol eden Aden; hangi çıkıştan çıkar?

A) 1. çıkış

B) 2. çıkış

C) 3. çıkış

2. Hava yağmurluydu. Beşiktaş'ta Hakan Pastanesinde arkadaşım Umur ile görüşmeye gittim. Umur'un elinde güller vardı. Güllerin kokusu adeta beni çekiyordu. Umur'un yanına gittim ve güllerin yumuşacık yaprakları sivri dikenlerine dokundum. Güller o kadar güzel ki sanki daha önce hiç bu kadar güzel güller görmemiştim.



Bu olayda hangi duyu organı ile ilgili anlatım yoktur?

A)



B)



C)



3.



Efe

Çok şiddetli seslerin olduğu ortamlarda bulunmak.....kaybına sebep olur.

Yukarıda Efe'nin kurduğu cümlede boş bırakılan yere gelecek kelimeye ait hangi duyu organıyla ilgili aşağıdakilerden hangisi **yanlıştır**?

- A) Yüksek sesli ortamlarda bulunmamalıyız.
 B) Başkalarıyla konuşurken kulaklarına yüksek ses ile bağırmalıyız.
 C) Sert cisimlerle karıştırmamalıyız.

4. Madde; uzayda yer kaplayan, hacmi ve kütlesi olan tanecikli yapılara denir. 5 duyu organımızla algılayabildiğimiz (hissedebildiğimiz) varlıklardır. Maddenin bazı özellikleri vardır.

Ömer esnek maddelere, Ayla pürüzlü maddelere örnek verecektir.

Buna göre aşağıdaki hangi seçenek **hatalıdır**?

	<u>Ömer</u>	<u>Ayla</u>
A)	Hamur	Havlu
B)	Lastik	Şemsiye
C)	Yay	Duvar

5.



Yukarıda ortadan ikiye ayrılmış Dünya modeline benzetmektedir.

Buna göre soru işaretli kısım Dünya'nın hangi katmanı olur?


- A) Çekirdek
 B) Magma
 C) Yer kabuğu

6. I. İnek sesi
 II. Televizyondaki müzik sesi
 III. Ağlayan çocuk sesi
 IV. Araba sesi

Yukarıdakilerden hangileri doğal ses kaynağına örnektir?

- A) II ve IV
 B) II ve III
 C) I ve III

7. Cansız varlıklar ancak dışarıdan bir etki ile hareket edebilirler. Cansız varlıkların hareketlerinden bir görsel aşağıda verilmiştir.



Yukarıda görsel verilen salıncağın yaptığı hareket çeşidi hangisidir?

- A) Dönme
 B) Sallanma
 C) Hızlanma